

**MINISTERIO DE EDUCACIÓN PÚBLICA
DIRECCIÓN DE DESARROLLO CURRICULAR
DEPARTAMENTO DE TERCER CICLO Y EDUCACION DIVERSIFICADA
ASESORÍA NACIONAL DE ESTUDIOS SOCIALES**



http://hisnav.blogspot.com/2009_07_01_archive.html

Asesores Nacionales:

- ⊗ *Marvín Carvajal Barrantes*
- ⊗ *Laura Lara Bolaños*

Objetivo del programa de Estudios Sociales 2012

Explicar los factores que influyen en la distribución de la población costarricense; los conceptos de natalidad, mortalidad y los efectos del fenómeno migratorio (inmigración y emigración) en Costa Rica, a partir de 1950.

PROPUESTA DE ÍTEMES

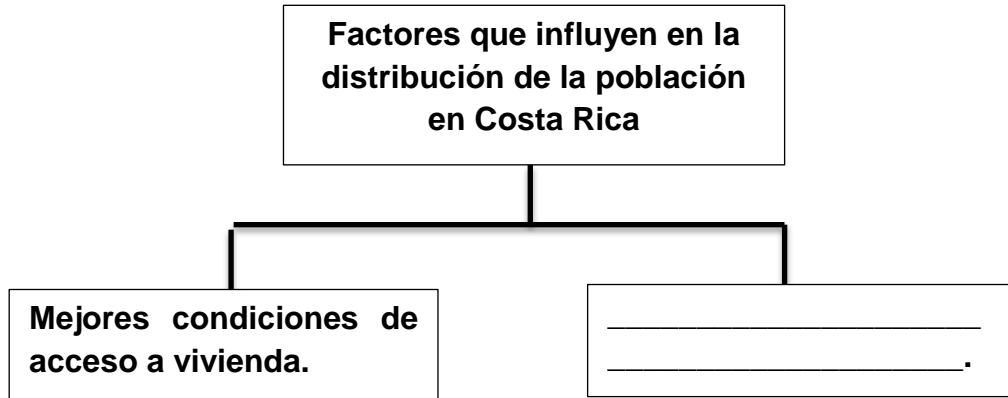
1. Considere la información del siguiente recuadro:

Población total de Costa Rica					
Año	1998	1999	2000	2001	2002
Población total	3 747 006	3 837 674	3 925 331	4 008 265	4 089 609
Tasa Bruta de natalidad (por mil habitantes)	21,8	21,9	21,4	19,2	17,6
Tasa bruta de mortalidad (por mil habitantes)	4,2	4,2	4,1	3,9	3,7

De acuerdo con los datos anteriores se puede concluir que en Costa Rica, a finales del siglo XX y principios del siglo XXI

- A) las tasas de natalidad y mortalidad mostraron prácticamente las mismas cifras.
- B) tanto la natalidad como la mortalidad mantuvieron un crecimiento sostenido.
- C) la población presentó un aumento progresivo en las tasas de nacimientos.
- D) la tasa de mortalidad incidió en el aumento de la población.

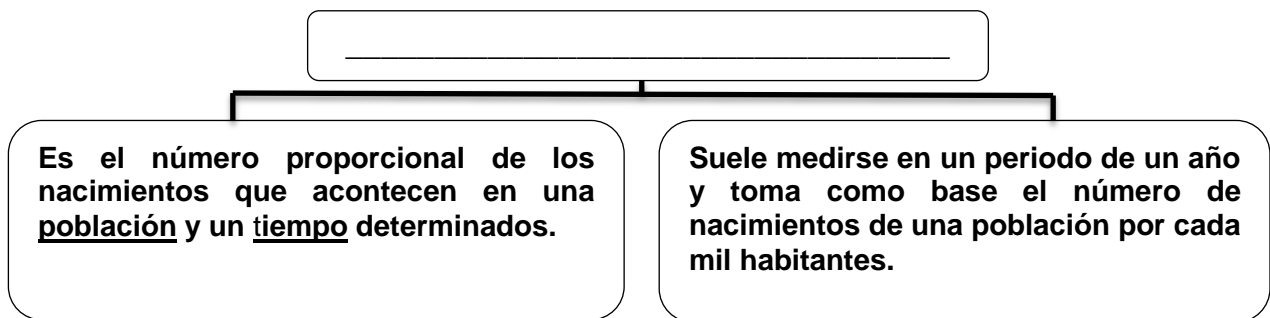
2. Considere el siguiente esquema:



¿Cuál es el factor que completa correctamente el esquema anterior?

- A) Migración de la ciudad al campo
- B) Crecimiento de las actividades del sector primario
- C) Acceso a mayores oportunidades de estudio superior
- D) Concentración industrial y comercial en las zonas costeras

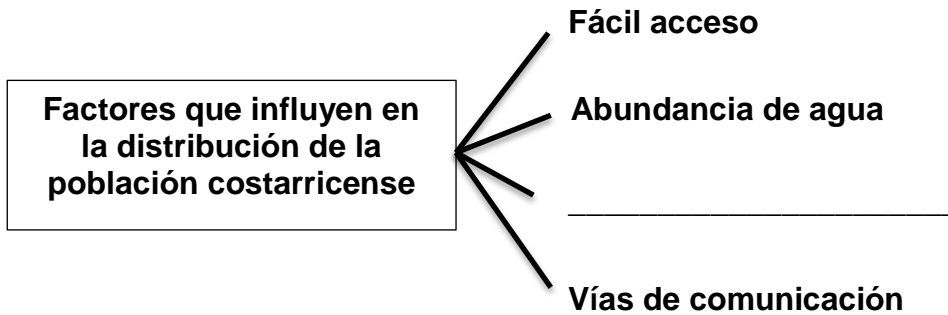
3. Considere el siguiente esquema:



¿Cuál es el concepto demográfico al que hace referencia el esquema anterior?

- A) Densidad
- B) Natalidad
- C) Mortalidad
- D) Esperanza de vida

4. Considere el siguiente esquema:



¿Cuál opción completa correctamente el esquema anterior?

- A) Altas temperaturas
- B) Escasa pluviosidad
- C) Fertilidad de la tierra
- D) Alejamiento de centros urbanos

5. Considere el siguiente texto:

Es el indicador demográfico que señala el número de defunciones de una población por cada 1.000 habitantes, durante un período determinado generalmente un año.

es.wikipedia.org/wiki/Mortalidad

El texto anterior hace referencia al concepto de

- A) natalidad.
- B) mortalidad.
- C) concentración.
- D) sobrepoblación.

6. Considere el siguiente texto:

Es una medida de cuantificación de la fecundidad, que refiere a la relación que existe entre el número de nacimientos ocurridos en un cierto período y la cantidad total de efectivos del mismo periodo.

es.wikipedia.org/wiki/Natalidad

¿Cuál es el concepto al que hace referencia el texto anterior?

- A) Natalidad
- B) Mortalidad
- C) Concentración
- D) Sobrepoblación

7. Considere el siguiente texto:

Es un término que se refiere a una condición en que la densidad de la población se amplía a un límite que provoca un empeoramiento del entorno, una disminución en la calidad de vida, o un desplome de la población.

¿Cuál es el concepto al que hace referencia el texto anterior?

- A) Natalidad
- B) Mortalidad
- C) Concentración
- D) Sobrepoblación

8. Considere el siguiente texto:

Es el número de habitantes que viven en un área específica, por ejemplo: 100 habitantes por Kilómetro cuadrado.

¿Cuál es el concepto al que hace referencia el texto anterior?

- A) Densidad de población
- B) Tasa de mortalidad
- C) Tasa de natalidad
- D) Sobrepoblación

9. Considere los datos del siguiente recuadro:

Tasas de natalidad y mortalidad en Costa Rica (por cada mil habitantes)		
Años	Natalidad	Mortalidad
1950-1954	48,2	11,6
1960-1964	15,6	8,9
1970-1974	29,6	5,6
1975-1979	23,4	3,5

De acuerdo con la información del recuadro anterior, se puede afirmar que en 1950, Costa Rica

- A) la tasa de mortalidad disminuyó drásticamente.
- B) los índices de natalidad se mantuvieron constantes.
- C) los índices de natalidad empezaron a subir a partir de 1960.
- D) la tasa de mortalidad se mantuvo estable durante el período de 1950-1954.

10. Considere el siguiente texto:

El incremento de la población es uno de los hechos más espectaculares; al final de la década de 1950 (siglo XX), la tasa de crecimiento –casi 4% al año- era de las más altas en el mundo, excediendo a la que habían experimentado los países industrializados durante los siglos XIX y XX. Al final de la década de 1970 era todavía de 2,7%.

El texto anterior evidencia una característica importante en la evolución de la población costarricense a partir de 1950 y tuvo como origen

- A) la erradicación de la deserción escolar a partir de 1950 en las zonas rurales.
- B) la intervención social en salud que llevó a cabo el Estado Gestor.
- C) las medidas de compensación económica del Estado empresario.
- D) la puesta en ejecución de los programas de ajuste estructural.

11. En demografía el concepto que hace referencia al número de fallecimientos en una determinada población a lo largo de un período de tiempo establecido (meses o años) se le conoce con el nombre de

- A) densidad.
- B) natalidad.
- C) mortalidad.
- D) decrecimiento.

12. En relación con las características que presenta la mortalidad en Costa Rica a partir de 1950, las tasas de mortalidad han

- A) disminuido a raíz del aumento de la tasa de crecimiento.
- B) decrecido por la falta de acueductos y alcantarillados en las áreas urbanas.
- C) aumentado por la eliminación de programas de prevención y erradicación de enfermedades.
- D) descendido debido en parte, a la creación y buen funcionamiento de la Caja Costarricense de Seguro Social.

13. Considere el siguiente texto:

La pobreza en Costa Rica sigue impactando a las zonas rurales, por esta razón, aumenta la migración interna hacia el Gran Área Metropolitana, el sector más poblado del país.

Según el texto anterior ¿cuál factor influye en la distribución de la población?

- A) Socioeconómico
- B) Geográfico
- C) Histórico
- D) Político

14. Considere el siguiente texto:

En las áreas situadas por encima de los 2000 metros de altura, predomina una baja densidad de población, esto se debe a que las condiciones topográficas, con formas de relieve muy quebrado, han inhibido su poblamiento.

Tobías Meza. Costa Rica Contemporánea (Parafraseado)

¿Cuál es el factor que influye en la distribución de la población al que hace referencia el texto anterior?

- A) Cultural
- B) Histórico
- C) Geográfico
- D) Socioeconómico

15. Considere el siguiente texto:

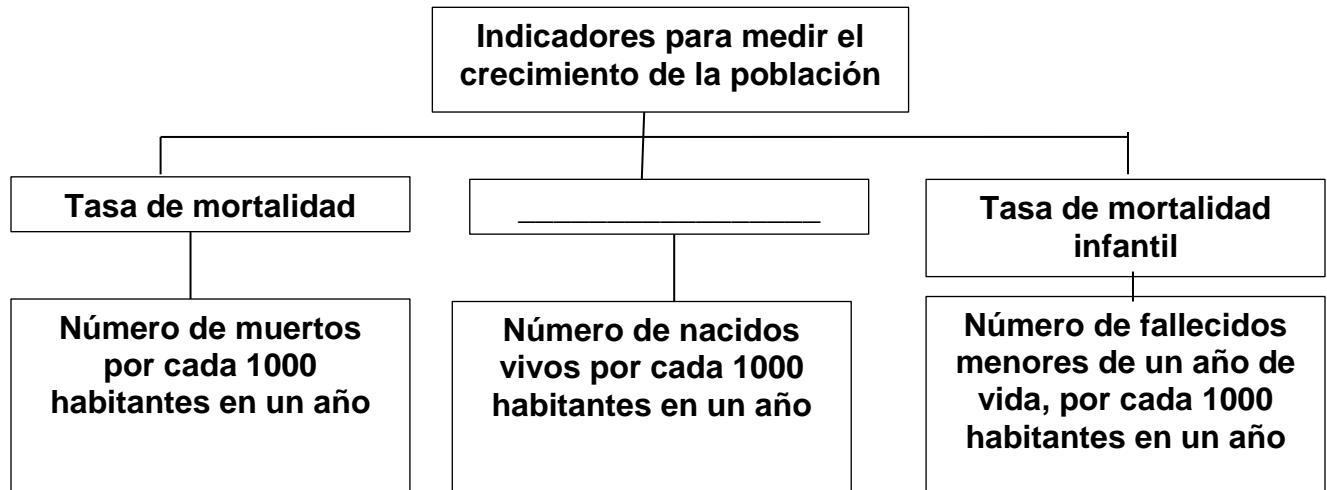
Durante los primeros cincuenta años del siglo XX, la población costarricense alcanzó los 800 875 habitantes, según censo de 1950. En la segunda mitad del siglo XX, la población se multiplicó 4,8 veces, llegando en el 2004 a 4 237 040 personas.

Gilberth Vargas, Geografía de Costa Rica

El texto anterior se refiere al rápido incremento de población experimentado en Costa Rica a partir de 1950, el cual ocurrió porque

- A) la mortalidad aumentó y la natalidad disminuyó.
- B) el crecimiento natural o vegetativo fue positivo.
- C) la tasa de natalidad se mantuvo estable.
- D) la emigración superó a la inmigración.

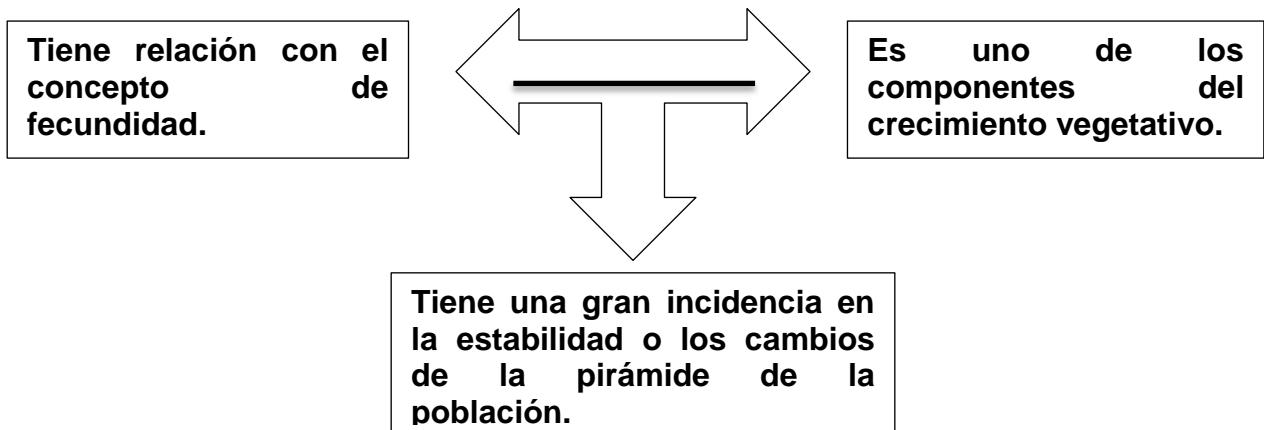
16. Considere el siguiente esquema:



El concepto con el que se completa correctamente el esquema anterior corresponde a tasa de

- A) natalidad.
- B) crecimiento rural.
- C) crecimiento natural.
- D) crecimiento vegetativo.

17. Considere el siguiente esquema:



¿Cuál es el concepto demográfico cuyas características se enuncia en el esquema anterior y con el que se completa correctamente el esquema anterior?

- A) Natalidad
- B) Fertilidad
- C) Longevidad
- D) Esperanza de vida

18. Considere el siguiente texto referido al uso de los censos de población en Costa Rica:

La clasificación de la población del país, según residencia urbana o rural, es un aspecto que se investiga usualmente en los censos de población.

El contenido del texto anterior hace referencia a la definición de

- A) crecimiento de la población.
- B) distribución espacial de la población.
- C) cambios en la mortalidad y natalidad.
- D) diferencia entre los inmigrantes y los emigrantes.

19. Considere la siguiente definición:

Cambio o traslado de las personas de su provincia de nacimiento a su provincia de residencia actual.

La definición anterior hace referencia al concepto de

- A) migración interna.
- B) mortalidad infantil.
- C) densidad demográfica.
- D) distribución urbano-rural.

20. La densidad de la población es un indicador que permite, de manera aproximada

- A) indicar cuantos distritos tiene un cantón.
- B) determinar la variedad de la flora de una región.
- C) medir la ocupación que la población hace del territorio.
- D) medir la superficie que tiene las provincias de un determinado país.

21. Considere la siguiente información:

- 1. Deforestación.**
- 2. Deterioro ambiental.**
- 3. Degradación del suelo.**
- 4. Contaminación atmosférica.**

¿Con cuáles números de los anteriores se identifican resultados de la presión que ejerce el aumento de la población sobre los recursos naturales?

- A) 1, 2, 3 y 4
- B) 1, 2 y 3
- C) 1, 2 y 4
- D) 3 y 4

22. Considere la siguiente información:

- | |
|--|
| 1. Es el número de habitantes por unidad de superficie, expresada en kilómetros cuadrados. |
| 2. Esta relacionada con la distribución de la población y es un indicador que permite estudiar la ocupación de los habitantes en el territorio. |
| 3. Es un concepto de geografía que se utiliza para indicar la relación que hay entre la cantidad de personas que viven en un territorio y la extensión de este. |

¿Con cuáles números de los anteriores se identifican definiciones que están relacionadas directamente con el concepto de densidad de población?

- A) 1, 2 y 3
- B) 2 y 3
- C) 1 y 3
- D) 1 y 2

23. Considere las siguientes proposiciones:

- I. **El término emigrante se emplea para referir a aquel individuo que emigra, que se traslada de su país de origen a otro, generalmente, con la intención de desarrollar una actividad de tipo laboral.**
- II. **La emigración implica el desplazamiento de una población del lugar de origen a otro para establecerse ahí y comenzar una nueva forma de vida.**

De ellas ¿cuáles son VERDADERAS?

- A) Ambas
- B) Ninguna
- C) Solo la I
- D) Solo la II

24. Considere la siguiente información:

1. **Guerras, tanto internas como internacionales, dando lugar a desplazamientos masivos y forzados de millones de personas anualmente.**
2. **Persecuciones internas en el país por razones raciales, políticas o religiosas.**
3. **Razones medioambientales (catástrofes naturales, clima más favorable, etc.).**

¿Con cuáles números de los anteriores se identifican razones por las personas emigran a otros países?

- A) 1, 2 y 3
- B) 2 y 3
- C) 1 y 3
- D) 1 y 2



25. Considere las siguientes proposiciones:

- I. **La causa principal de la inmigración radica en los esfuerzos que hacen las personas para obtener una renta lo más alta posible, trasladándose para ello de economías de renta baja a economías de renta alta.**
- II. **La inmigración no solo puede explicarse por las diferencias de renta entre países, si no que también influyen en ella otros factores, enfatiza que la decisión de inmigrar no la toma solamente una persona si no que constituyen estrategias familiares encaminadas a mejorar las oportunidades de supervivencia.**

De ellas ¿cuáles son VERDADERAS?

- A) Ambas
- B) Ninguna
- C) Solo la I
- D) Solo la II

26. Considere las siguientes definiciones:

1. Movimiento de población que consiste en dejar temporal o definitivamente el lugar de residencia para establecerse o trabajar en otro país o región, especialmente por causas económicas, políticas o sociales.

2. Se denomina migración a todo desplazamiento de la población que se produce desde un lugar de origen a otro destino y lleva consigo un cambio de la residencia habitual de las personas.

3. Responden a la inquietud generalizada de los seres humanos de buscar siempre un mejor lugar para vivir ya que, con las migraciones se intenta superar las desigualdades.

¿Con cuáles números de los anteriores se identifican definiciones relacionadas con el concepto de migración?

- A) 1, 2 y 3
- B) 2 y 3
- C) 1 y 3
- D) 1 y 2

27. Considere el siguiente texto:

Es el número proporcional de nacimientos que tiene lugar en una población y periodo determinados. Es una medida que indica la fecundidad, es decir, la realización efectiva de la fertilidad o la abundancia de la reproducción de los seres humanos. Lo habitual es que refleje el número de nacimientos de una población por cada mil habitantes en un año.

¿Cuál es el concepto al que hace referencia el texto anterior?

- A) Tasa de natalidad
- B) Esperanza de vida
- C) Tasa de mortalidad
- D) Densidad de población

28. Considere el siguiente texto:

Indica la relación existente entre la cantidad o volumen de población y la superficie que ocupa. Es un concepto semejante al de distribución; aunque la densidad es menos representativa de la realidad, por ser un promedio estadístico (habitantes/unidad de superficie), tiene la ventaja de ser un índice cuantificable.

¿Cuál es el concepto al que hace referencia el texto anterior?

- A) Tasa de natalidad
- B) Esperanza de vida
- C) Tasa de mortalidad
- D) Densidad de población



http://3.bp.blogspot.com/_od7epbx_3hg/S8c2IIRLBil/AAAAAAAAAAM/VJLeXfjQesc/s1600/poblacion.gif

29. Considere las siguientes definiciones:

- ❖ **Es la media de la cantidad de años que vive una determinada población en un cierto periodo de tiempo. Se suele dividir en masculina y femenina, y se ve influenciada por factores como la calidad de la medicina, la higiene, las guerras, etc., si bien actualmente se suele referir únicamente a las personas que tienen una muerte no violenta.**
- ❖ **Es una estimación del promedio de años que viviría un grupo de personas nacidas el mismo año si los movimientos en la tasa de mortalidad de la región evaluada se mantuvieran constantes. Es uno de los indicadores de la calidad de vida más comunes, aunque resulta difícil de medir. Algunos economistas han propuesto usarlo para medir el retorno de la inversión en el capital humano de una región por organismos o instituciones internacionales.**

¿Cuál es el concepto al que hacen referencia los conceptos anteriores?

- A) Tasa de natalidad
- B) Esperanza de vida
- C) Tasa de mortalidad
- D) Densidad de población

30. Considere las siguientes definiciones:

- ❖ **Es un indicador que refleja el número de defunciones por cada 1.000 habitantes de una población en un cierto periodo de tiempo (generalmente, un año).**
- ❖ **Es la que establece el número de muertes por cada mil habitantes dentro de una población más o menos determinada. Usualmente, este porcentaje es el resultado de los estudios realizados u observados a lo largo de un año.**

¿Cuál es el concepto al que hacen referencia los conceptos anteriores?

- A) Tasa de natalidad
- B) Esperanza de vida
- C) Tasa de mortalidad
- D) Densidad de población

31. Considere el siguiente texto:

Concepto que es utilizado por la demografía, y se refiere al número de personas que por diferentes causas fallecen.

El texto anterior se refiere al concepto de

- A) concentración de población.
- B) mortalidad.
- C) natalidad.
- D) densidad.

32. Considere el siguiente texto:

En las últimas décadas se han producido cambios en el patrón de poblamiento, debido al agotamiento de la frontera agrícola y a que el Valle Central está prácticamente poblado. Por esta razón se han empezado a poblar zonas tradicionalmente catalogadas como rurales y han surgido periféricas alrededor del centro del país.

De acuerdo con el contenido del texto anterior se puede concluir que

- A) en San José no se construyen más casas.
- B) algunas zonas rurales han empezado a poblarse.
- C) todas las personas que migran hacia San José viven en la periferia.
- D) en la actualidad, los costarricenses solo se concentran alrededor del centro del país.

33. Considere el siguiente texto:

Concepto que se refiere a la aglomeración o a la ubicación de grandes cantidades de personas especialmente en espacios urbanos, lo que provoca problemas de hacinamiento, escasez o carencia de falta de servicios básicos como agua, electricidad y alimentación. Esta situación ocurre mayormente en países en vías de desarrollo.

¿Cuál es el concepto al que se refiere el texto anterior?

- A) Natalidad.
- B) Mortalidad.
- C) Inmigración.
- D) Concentración de población.

34. Considere el siguiente esquema:

Causas de la baja mortalidad en Costa Rica a partir de 1950

- ❖ **Construcción de acueductos rurales.**
- ❖ **Programas de salud rural y medicina preventiva.**
- ❖ _____

¿Cuál es la causa que completa correctamente el espacio en blanco del esquema anterior?

- A) Mayor desarrollo rural que urbano.
- B) Universalización del Seguro Social.
- C) Privatización de los programas de salud pública.
- D) Disminución del número de muertes por accidentes de tránsito.

35. Considere el siguiente cuadro:


Número de nacimientos en Costa Rica (1999-2002)

1999	2000	2001	2002
78 526	78 178	76 401	71 144

Fuente: INEC

Con base en los datos del cuadro anterior, puede afirmarse que la natalidad en Costa Rica

- A) experimentó un evidente descenso en el año 2002.
- B) ha mantenido los mismos niveles en los cuatro años considerados.
- C) alcanzó en el año 2002, las cifras más bajas de la historia nacional.
- D) presentó en 1999 la tasa de crecimiento más elevada de todo el siglo XX



<http://poesias-antares.blogspot.com/2008/07/evento-migracin-recital-del-grupo.html>

No es el conocimiento, sino el acto de aprendizaje, y no la posesión, sino el acto de llegar allí, que concede el mayor disfrute.

Carl Friedrich Gauss